

Visual i plàstica 1r d'ESO

Dossier que han de realitzar tots els alumnes que no han aprovat la matèria de visual i plàstica de 1r d'ESO els que tenen l'assignatura pendent.

Aquest dossier totalment acabat es lliurarà a la professora el dia de l'examen de setembre.

No es podrà realitzar l'examen sense haver fet totalment el dossier.

Aquest dossier s'ha de realitzar amb la teoria treballada durant el curs, que ha quedat dins de les carpetes de cada alumne/a. Cada alumne/a ha de tenir la seva carpeta.

Nom i cognom.....

Curs Data:.....

1. El color

1.- Indica quins són els colors primaris dels colors pigment:

Defineix:

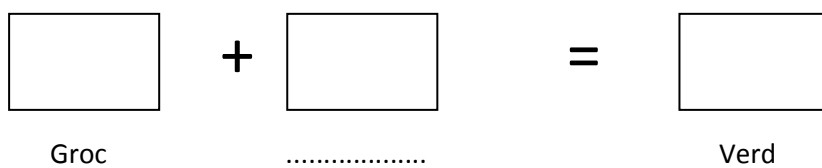
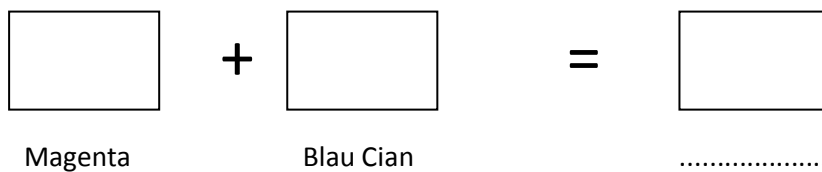
To:

Valor:

Saturació:

2.- Què és una gamma de colors?

3.- Realitza amb llapis de colors, la mescla dels colors indicats en aquest esquema. Per tal de mesclar els colors, pinta un color i l'altre a sobre. Escriu les parts que falten.



2.- La línia

1.- Indica com poden ser les línies rectes, il·lustra amb un dibuix.

a).- b).- c).-

2.- Defineix: Bisectriu d'un angle.

3.- Dibuixa un angle agut i fes la seva bisectriu.

4.- Dibuixa un segment de 40 mm. i fes la seva mediatriu.

3.-Els elements de la geometria plana

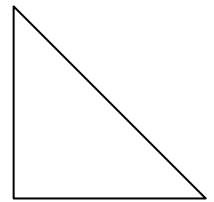
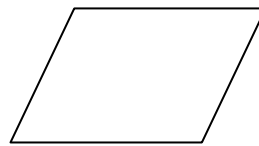
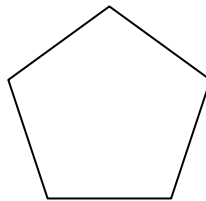

1.- Dibuixa els següents elements:

a).- Dues rectes perpendiculars

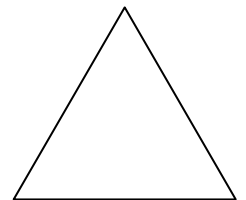
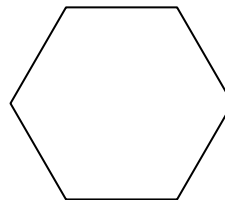
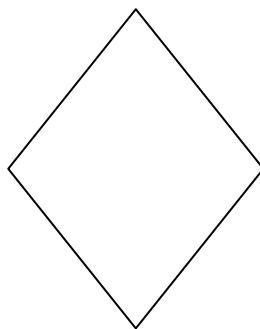
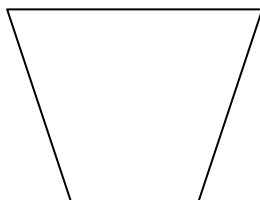
b).- Un angle de 30° amb el joc d'escaires

c).- Un angle obtús

2.- Escribe en la línea de punts el nom de les figures següents:



.....



.....

4.- Indica el nom dels polígons següents segons els seus costats:

1.- Polígon de 4 costats:

2.- Polígon de 5 costats:

3.- Polígon de 8 costats:

4.- Polígon de 9 costats:

5.- Polígon de 12 costats:

5.- Fes un dibuix d'un escaire i un cartabó. Posa el nom corresponent a cada dibuix i indica els angles dels seus vèrtex.

6.- Dibuixa un polígon estelat. triat de tots els que tens a la fitxa de la carpeta un.

Dibuixa'l inscrit en una circumferència de 40mm. de radi.

Passa el polígon a pilot, pinta el dibuix amb llapis de colors. Només podràs utilitzar colors primaris.

4.- Els poliedres

1.- Llegeix la teoria de la carpeta sobre cossos geomètrics i poliedres i respon a les preguntes següents:

- Escribe el nom dels poliedres regulars:

- Indica el nom d'un poliedre amb les cares que són polígons regulars:

- Indica com són les cares d'un tetraedre:

- Indica quantes arestes té un icosaedre:

- Indica les característiques d'un hexaedre :

- Quins tipus de prismes coneixes?.....

- Quines característiques tenen els prismes rectes?.....

- Un hexàedre és igual a un hexàgon?

- Quina diferència hi ha entre una piràmide i un tetraedre?

- Recordes que vol dir la paraula POLIEDRE?

- Dibuixa amb regle un hexàedre.

5.- L'encaixament de les formes i el clarobscur

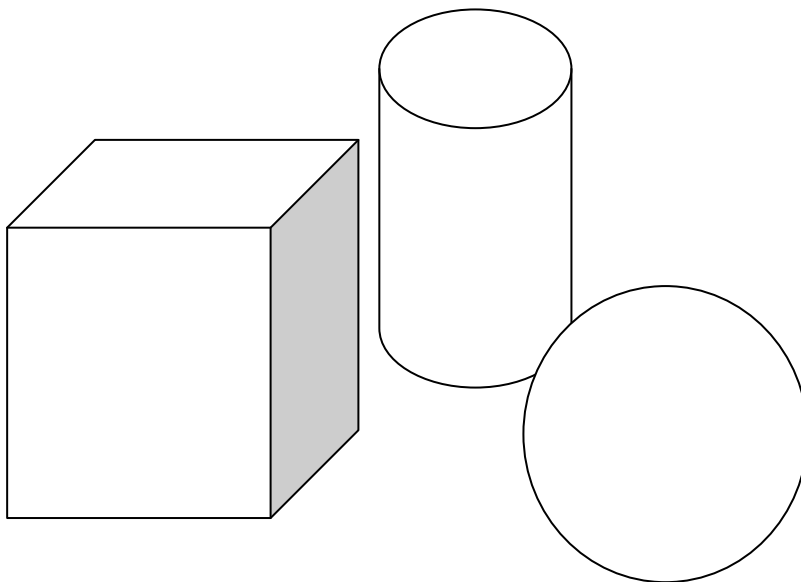
1.- Perquè es necessari encaixar correctament un dibuix?

El clarobscur és una tècnica pictòrica que serveix per donar volum als objectes i crear en les imatges una sensació de tres dimensions. El en paper que només té dues dimensions es crea la sensació de tres dimensions, altura, amplada i profunditat.

Recordeu que els objectes quan reben la llum creen dos tipus d'ombres: la pròpia i la projectada, que es crea sobre una taula o qualsevol suport sobre el qual està l'objecte.

2.- Pinta amb un llapis HB o 2B i aplicant la tècnica del clarobscur la composició següent per tal d'aconseguir sensació de volum. Recorda pintar les ombres pròpies i les projectades.

LLUM



3.- Reprodueix amb un llapis HB o 2B, el dibuix següent. Encaixa les formes i aplica la tècnica del clarobscur.

